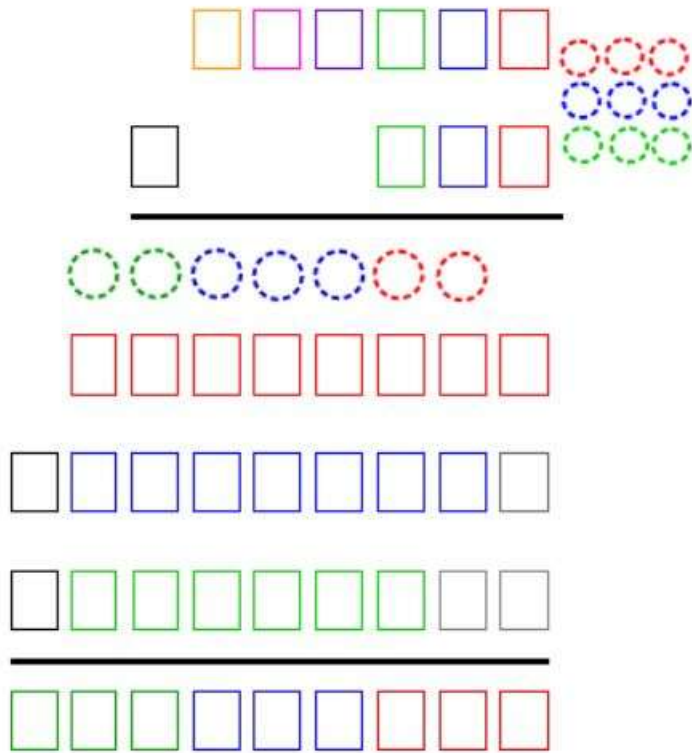


Je m'appelle

Mes rituels de mathématiques de la semaine ... (B)

Lundi

Exercice du jour : $821 \times 678 =$



La table de Pythagore

x	1	2	3	4	5	6	7	8	9	10
1	1	2	3	4	5	6	7	8	9	10
2	2	4	6	8	10	12	14	16	18	20
3	3	6	9	12	15	18	21	24	27	30
4	4	8	12	16	20	24	28	32	36	40
5	5	10	15	20	25	30	35	40	45	50
6	6	12	18	24	30	36	42	48	54	60
7	7	14	21	28	35	42	49	56	63	70
8	8	16	24	32	40	48	56	64	72	80
9	9	18	27	36	45	54	63	72	81	90
10	10	20	30	40	50	60	70	80	90	100

► Chaque produit est dans une case, à l'intersection d'une ligne et d'une colonne.

@lutinbozarfr

Calcul mental

Complète la suite de nombres :

3	6	12							
---	---	----	--	--	--	--	--	--	--

Calcule le plus vite possible :

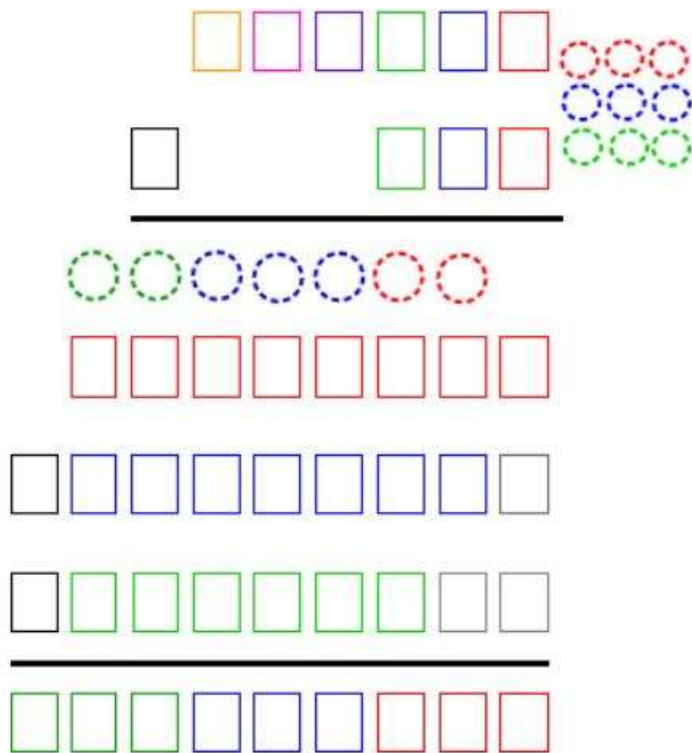
$9 \times 4 =$	$5 \times 5 =$	$7 \times 7 =$	$9 \times 6 =$
$7 \times 4 =$	$8 \times 8 =$	$3 \times 9 =$	$5 \times 6 =$

Résous le problème :

--	--

Mardi

Exercice du jour : $265\,897 \times 25 =$



x	1	2	3	4	5	6	7	8	9	10
1	1	2	3	4	5	6	7	8	9	10
2	2	4	6	8	10	12	14	16	18	20
3	3	6	9	12	15	18	21	24	27	30
4	4	8	12	16	20	24	28	32	36	40
5	5	10	15	20	25	30	35	40	45	50
6	6	12	18	24	30	36	42	48	54	60
7	7	14	21	28	35	42	49	56	63	70
8	8	16	24	32	40	48	56	64	72	80
9	9	18	27	36	45	54	63	72	81	90
10	10	20	30	40	50	60	70	80	90	100

► Chaque produit est dans une case, à l'intersection d'une ligne et d'une colonne.

©lutinbazar.fr

Calcul mental


Complète la suite de nombres :

4	12	36							
---	----	----	--	--	--	--	--	--	--








































Calcule le plus vite possible :

39 → 60 :	320 → 500 :	25 → 100 :	37 → 46 :
		3,4 → 6 :	0,2 → 1,1 :

Résous le problème :

	
--	-------------------------------------------------------------------------------------

Exercice du jour : $431\,897 - 96\,358 =$

							
							
							
							
<hr style="border: 1px solid black;"/>							
							

Calcul mental


Complète la suite de nombres :

2	8	32							
---	---	----	--	--	--	--	--	--	--

Ecris les nombres en chiffres :

Quart de 28 :	Double de 70 :	Triple de 38 :	tiers de 138 :
---------------	----------------	----------------	----------------

Résous le problème :

	
--	-------------------------------------------------------------------------------------

Vendredi

Exercice du jour : $1\,358 + 32\,658 + 56\,478 =$


Calcul mental

Complète la suite de nombres :

7	14	28							
---	----	----	--	--	--	--	--	--	--

Ecris les nombres en toutes lettres

Résous le problème :

	
--	-------------------------------------------------------------------------------------