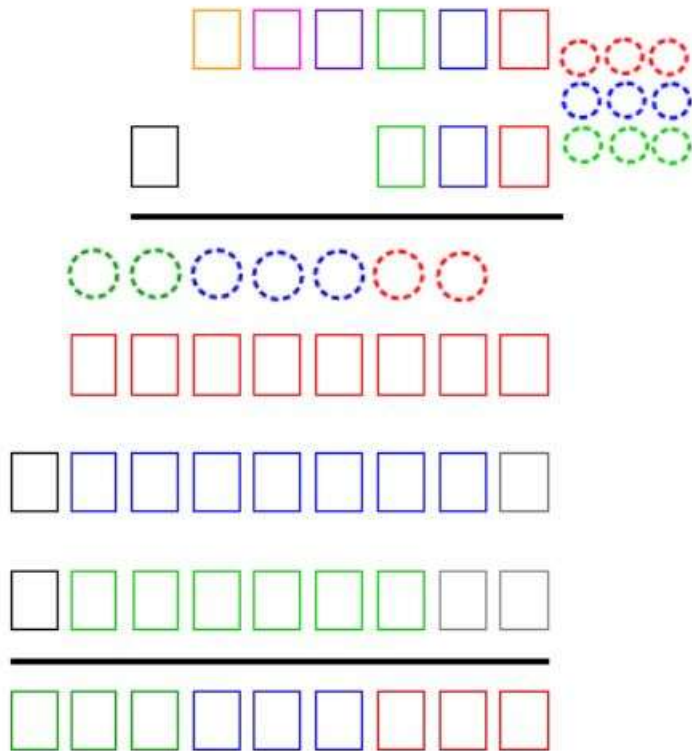


Je m'appelle

Mes rituels de mathématiques de la semaine 24

Lundi

Exercice du jour : $4689 \times 689 =$



La table de Pythagore

x	1	2	3	4	5	6	7	8	9	10
1	1	2	3	4	5	6	7	8	9	10
2	2	4	6	8	10	12	14	16	18	20
3	3	6	9	12	15	18	21	24	27	30
4	4	8	12	16	20	24	28	32	36	40
5	5	10	15	20	25	30	35	40	45	50
6	6	12	18	24	30	36	42	48	54	60
7	7	14	21	28	35	42	49	56	63	70
8	8	16	24	32	40	48	56	64	72	80
9	9	18	27	36	45	54	63	72	81	90
10	10	20	30	40	50	60	70	80	90	100

► Chaque produit est dans une case, à l'intersection d'une ligne et d'une colonne.

©lutinbozar.fr

Calcul mental

Complète la suite de nombres :

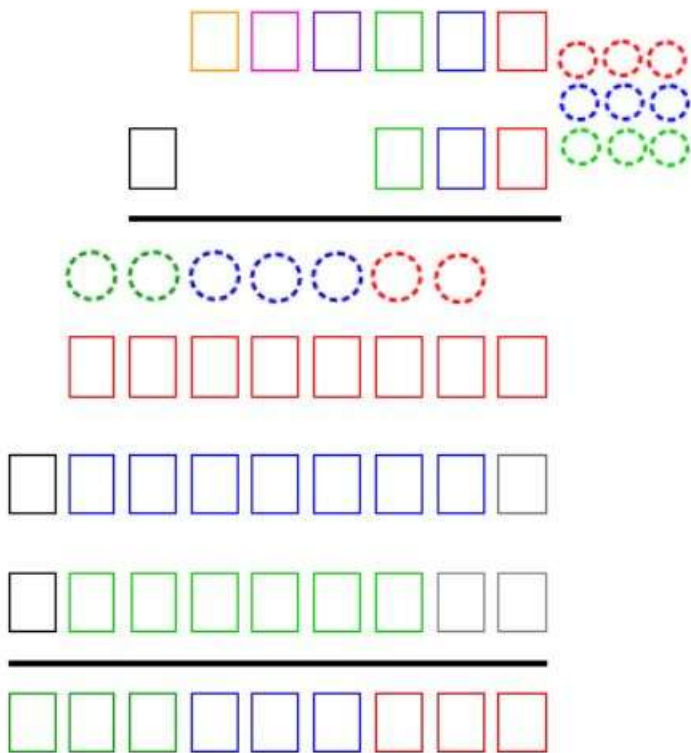
3	4	6	8	12	16				
---	---	---	---	----	----	--	--	--	--

Calcule le plus vite possible :

$8 \times 3 =$	$6 \times 4 =$	$7 \times 3 =$	$3 \times 3 =$
$5 \times 4 =$	$6 \times 6 =$	$8 \times 2 =$	$10 \times 10 =$

Résous le problème :

Exercice du jour : $12589 \times 142 =$



x	1	2	3	4	5	6	7	8	9	10
1	1	2	3	4	5	6	7	8	9	10
2	2	4	6	8	10	12	14	16	18	20
3	3	6	9	12	15	18	21	24	27	30
4	4	8	12	16	20	24	28	32	36	40
5	5	10	15	20	25	30	35	40	45	50
6	6	12	18	24	30	36	42	48	54	60
7	7	14	21	28	35	42	49	56	63	70
8	8	16	24	32	40	48	56	64	72	80
9	9	18	27	36	45	54	63	72	81	90
10	10	20	30	40	50	60	70	80	90	100

► Chaque produit est dans une case, à l'intersection d'une ligne et d'une colonne.

©lutinbazar.fr

Calcul mental

Complète la suite de nombres :

984		979			970				
-----	--	-----	--	--	-----	--	--	--	--

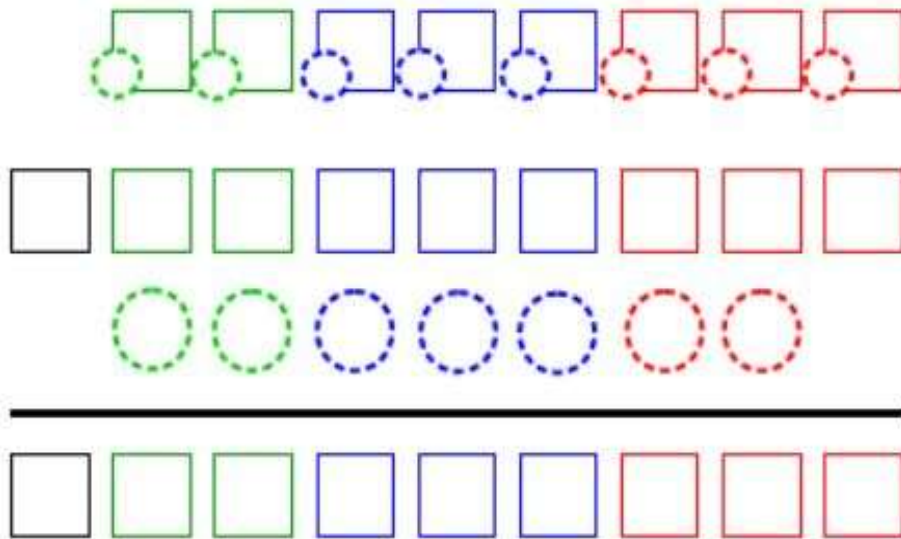
Calcule le plus vite possible :

$66 \times 50 =$	$120 \times 5 =$	$440 \times 25 =$	$48 \times 500 =$
------------------	------------------	-------------------	-------------------

Résous le problème :

Jeudi

Exercice du jour : $6\,598\,486 - 595\,859 =$



Calcul mental

Complète la suite de nombres :

2			16		64				
---	--	--	----	--	----	--	--	--	--

Ecris les nombres en chiffres :

$654 - 450 =$	$654 + 78 =$	$347 - 50 =$	$235 + 941 =$
---------------	--------------	--------------	---------------

Résous le problème :

Vendredi

Exercice du jour : $34958 + 9582 + 7125 =$

Calcul mental

Complète la suite de nombres :

	6	26	46						
--	---	----	----	--	--	--	--	--	--

Ecris les nombres en toutes lettres

Résous le problème :

--