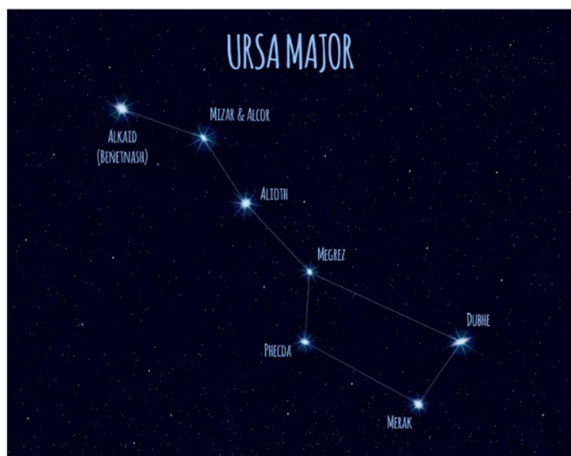



Où sommes-nous dans l'Univers ? Activités

Document 1 : Planche de documents



La constellation* de la Grande Ourse



Le Soleil



La Lune



La planète Terre



La station spatiale internationale : ISS



Un satellite



La planète Saturne



La Voie lactée vue depuis la Terre



La Voie lactée

Activité 1 : Découpe les vignettes et colle-les au bon endroit. Complète le tableau.


Etoiles	Planètes	Autres objets de l'espace



Mars



Sirius



Starlink



Saturne



Vega C



Mercure



Mir




Astéroïde



Curiosity



Titan

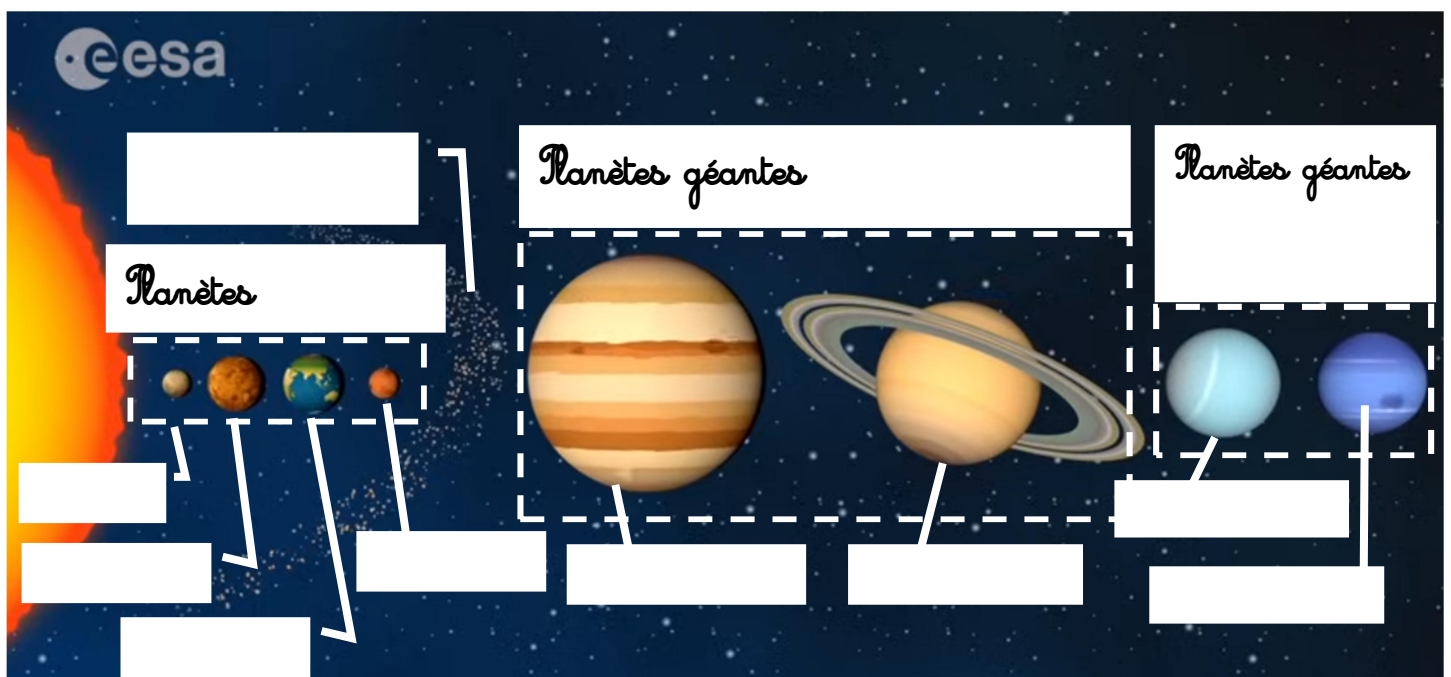


Neptune



Lune

Activité 2 : Schéma du Système solaire



Où sommes-nous dans l'Univers ? Activités

Document 2 : Planche de documents



La Voie lactée vue de la Terre



La Voie lactée



Différentes galaxies photographiées par le télescope EUCLID en 2024



Le Soleil
se
trouve
ici

Questionnaire : Paxi, le Système solaire

1. Quel est le nom de notre planète ?

.....

2. Quel verbe utilise-t-on pour dire « tourner autour de » ?

.....

3. Quel est le nom de notre étoile ?

.....

4. Que nous fournit-il ?

.....

5. Combien y a-t-il de planètes dans le Système solaire ?

.....

6. Qu'a la Terre de si particulier ?

.....

7. Quel type de planète est Pluton ?

.....

Questionnaire : Paxi, le Système solaire

1. Quel est le nom de notre planète ?

.....

2. Quel verbe utilise-t-on pour dire « tourner autour de » ?

.....

3. Quel est le nom de notre étoile ?

.....

4. Que nous fournit-il ?

.....

5. Combien y a-t-il de planètes dans le Système solaire ?

.....

6. Qu'a la Terre de si particulier ?

.....

7. Quel type de planète est Pluton ?

.....